

Estado de Alagoas  
**MUNICÍPIO DE POÇO DAS TRINCHEIRAS**

**CONCURSO PÚBLICO MUNICIPAL 2013**

Cargo (Nível Superior):

**MÉDICO PEDIATRA**

**Provas de Português, Raciocínio Lógico, História e Geografia  
de Poço das Trincheiras e Conhecimentos Específicos**

**CADERNO DE QUESTÕES**

**INSTRUÇÕES GERAIS**

1. Este **Caderno de Questões** somente deverá ser aberto quando for autorizado pelo Fiscal.
2. **Assine** neste **Caderno de Questões** e **coloque** o número do seu documento de identificação (RG, CNH, CTPS etc.).
3. **Antes de iniciar** a prova, **confira** se o **tipo** da prova do **Caderno de Questões** é o mesmo da **etiqueta da banca** e da **Folha de Respostas** de questões objetivas.
4. Ao ser autorizado o início da prova, verifique se a numeração das questões e a paginação estão corretas. Verifique também se contém **40 (quarenta)** questões objetivas com 5 (cinco) alternativas cada. Caso contrário, comunique imediatamente ao Fiscal.
5. Você dispõe de **02h30 (duas horas e trinta minutos)** para fazer esta prova. Faça-a com tranquilidade, mas **controle seu tempo**. Esse **tempo** inclui a marcação na **Folha de Respostas** de questões objetivas. Você somente poderá sair em definitivo do Local de Prova depois de decorridas **02h (duas horas)** do seu início.
6. Na **Folha de Respostas** de questões objetivas, confira seu **nome**, número do seu **documento de identificação**, **cargo escolhido** e **tipo de prova**.
7. Em hipótese alguma lhe será concedida outra **Folha de Respostas** de questões objetivas.
8. Preencha a **Folha de Respostas** de questões objetivas utilizando caneta esferográfica de tinta azul ou preta. Na **Folha de Respostas** de questões objetivas, preencha completamente o círculo correspondente à alternativa escolhida, conforme modelo: 1 

A	B	C	D	E
<input type="radio"/>	<input type="radio"/>	<input type="radio"/>	<input checked="" type="radio"/>	<input type="radio"/>
9. Será atribuído o valor ZERO à questão que contenha na **Folha de Respostas** de questões objetivas: dupla marcação, marcação rasurada ou emendada, não preenchida totalmente ou que não tenha sido transcrita.
10. A correção da prova objetiva será efetuada de forma eletrônica, considerando-se apenas o conteúdo da **Folha de Respostas** de questões objetivas.
11. Caso a Comissão julgue uma questão como sendo nula, os pontos serão atribuídos a todos os candidatos.
12. Não será permitida qualquer espécie de consulta.
13. Ao terminar a prova, **devolva** ao **Fiscal** de Sala este **Caderno de Questões**, juntamente com a **Folha de Respostas** de questões objetivas e **assine** a **Lista de Presença**.
14. Nas salas que apresentarem apenas 1 (um) fiscal de sala, os 3 (três) últimos candidatos somente poderão ausentar-se do recinto juntos, após a **assinatura** da **Ata de Encerramento** de provas.

*Boa Prova!*

Nº. do doc. de identificação (RG, CNH etc.):

Assinatura do(a) candidato(a):

PROVA TIPO

1

POÇO DAS  
TRINCHEIRAS | 2013



FUNDEPES

## PORTUGUÊS

Baseie-se na letra da música “É”, do compositor Gonzaguinha, para responder as questões de 1 a 3.

É

a gente quer valer o nosso amor  
a gente quer valer nosso suor  
a gente quer valer o nosso humor  
a gente quer do bom e do melhor...

a gente quer carinho e atenção  
a gente quer calor no coração  
a gente quer suar, mas de prazer  
a gente quer é ter muita saúde  
a gente quer viver a liberdade  
a gente quer viver felicidade...

É

a gente não tem cara de panaca  
a gente não tem jeito de babaca  
a gente não está  
com a bunda exposta na janela  
pra passar a mão nela...

É

a gente quer viver pleno direito  
a gente quer viver todo respeito  
a gente quer viver uma nação  
a gente quer é ser um cidadão  
a gente quer viver uma nação...

GONZAGUINHA. *Canções marginais*. Disponível em:  
<http://www.gonzaguinha.com.br>

1. Assinale a única opção que não condiz com a letra da música.
- A) Na composição, é usada a expressão “a gente”, por meio da qual o eu poético envolve não apenas as suas necessidades, mas aquelas que considera comuns às pessoas de maneira geral.
  - B) O eu lírico compartilha com seus interlocutores algumas impressões e necessidades que não são comuns a todas as pessoas, são aspectos individuais.
  - C) Há, na composição, um pedido implícito que é a construção de uma nação fundada no respeito aos direitos básicos das pessoas.
  - D) Os versos “a gente quer valer o nosso amor” / “a gente quer valer nosso suor” (1ª estrofe) comprovam que o autor faz referência aos desejos mais pessoais.
  - E) A última estrofe trata dos aspectos relativos à coletividade, como se pode comprovar nos versos “a gente quer é ser um cidadão” / “a gente quer viver uma nação...”.

- 2. Acerca da intenção comunicativa presente na composição, somente se pode inferir que
  - A) é uma poesia de caráter social, na qual o eu lírico fala em nome das pessoas que têm seus direitos negligenciados.
  - B) é uma poesia de caráter social, na qual o eu lírico explicita um pedido e o direciona às pessoas responsáveis pela promoção do bem-estar dos cidadãos.
  - C) há, explicitamente, um pedido para que as pessoas se unam a fim de fazerem algo contra a exploração do cidadão, transformando assim nossa realidade.
  - D) é um texto poético, apresentando enfoque informativo, cujo objetivo é destacar algumas necessidades do povo brasileiro.
  - E) o autor dessa composição, além de usar a 1ª pessoa, enumera diversas características que são comuns a todos nós.
- 3. O compositor do texto, visando intensificar o sentido da expressão “a gente”, repete-a várias vezes no começo dos versos. A esse recurso dá-se o nome de
  - A) polissíndeto.
  - B) aliteração.
  - C) anáfora.
  - D) hipérbole.
  - E) anacoluto.

A questão 4 refere-se ao texto abaixo.

E no meio dessa confusão alguém partiu sem se despedir; foi triste. Se houvesse uma despedida talvez fosse mais triste, talvez tenha sido melhor assim, uma separação como às vezes acontece em um baile de carnaval — uma pessoa se perde da outra, procura-a por um instante e depois adere a qualquer cordão.

Rubem Braga

4. Para o autor do texto, o ato de despedida
- A) deve ser um ritual imprescindível às lembranças dos amantes, por isso não se revela como vivência humana dispensável.
  - B) deve ser sempre um constituinte dos rituais de separação.
  - C) acompanha apenas as reminiscências daqueles que viveram significativos atos de amor.
  - D) compõe toda forma de separação.
  - E) deve ser prescindível nas separações para que se suavize a tristeza.
5. No pequeno fragmento abaixo, o termo “cavalo solto” é um exemplo de
- Não vejo mais o rio da minha infância, indomável nas invernadas, cavalo solto pela relva fina, corria, engolindo terras, cercas, currais, casebres, engolindo tudo pela frente.
- Gabriel García Márquez
- A) hipérbole.
  - B) metáfora.
  - C) antítese.
  - D) metonímia.
  - E) prosopopeia.

**A questão 6 refere-se ao texto abaixo.**

No campo e na cidade, os jovens carecem de apoio: são juventudes no plural, dizem os especialistas, cada uma com sua realidade. Nenhuma juventude sofre mais que a negra e (geralmente) pobre. Segundo o UNICEF, um adolescente negro tem quase quatro vezes mais risco de ser assassinado do que um branco.

Carta na Escola, p.56

**6.** Quando o texto diz “Nenhuma juventude sofre mais que a negra”

- A) revela uma afirmação categórica a respeito de certa juventude marginalizada.
- B) revela dúvidas sobre a situação das juventudes marginalizadas.
- C) a proposição não está aportada em nenhum banco de informações que possa fundamentar a resposta.
- D) distancia-se da ideia central.
- E) trata-se de uma proposição inconsistente pela falta de categorização.

**A questão 7 refere-se ao texto abaixo.**

O velho anacoreta subia a vasta colina para se compreender. Buscava sempre as tardes frias para que se depurasse toda a sua fé na vida, pois em dúvidas, a existência passaria a ser muito mais pesada do que já era.

Pablo Neruda

**7.** As duas orações sublinhadas no texto, semanticamente, expressam

- A) causa.
- B) oposição.
- C) finalidade.
- D) explicação.
- E) tempo.

**A questão 8 refere-se ao texto abaixo.**

Os grandes olhos claros e aguados boiavam na sombra nevoenta, cheios de espanto.

Graciliano Ramos

**8.** Em que opção o texto acima foi reescrito sem subverter as regras de pontuação?

- A) Na sombra nevoenta, os grandes olhos claros e aguados, boiavam na sombra, cheios de espanto.
- B) Os grandes olhos claros, e aguados boiavam na sombra nevoenta cheios de espanto.
- C) Na sombra nevoenta, os grandes olhos claros e aguados, boiavam cheios de espanto.
- D) Os grandes olhos claros e aguados boiavam, cheios de espanto, na sombra nevoenta.
- E) Claros e aguados, os grandes olhos boiavam cheios, de espanto na sombra nevoenta.

**A questão 9 refere-se ao texto seguinte.**

**Dor fantasma**

Muitas pessoas sentem dores no inverno, principalmente os idosos que possuem alguma doença degenerativa, como artrose. Eles dizem sentir “dor nos ossos”, mas o que dói são os músculos. Os cientistas não sabem explicar os motivos dessa dor, mas existem teorias que explicam de uma maneira fisiológica o que acontece com nosso corpo nessa estação do ano.

Quando praticamos atividade física nosso corpo esquenta, o metabolismo acelera e as glândulas excretam suor. Esse líquido tem a função de regular nossa temperatura, resfriando o corpo. O mesmo acontece quando administramos alguma medicação para febre, por exemplo.

Durante os dias frios, o metabolismo sofre alterações e os músculos e vasos sanguíneos provocam contrações involuntárias para manter o corpo aquecido e facilitar o transporte de nutrientes e oxigênio que chega aos tecidos. Esse encurtamento muscular provoca diminuição da força, restrição leve da amplitude de movimento e espessamento do líquido sinovial, que é responsável por lubrificar e nutrir as articulações. Esse conjunto de fatores provoca as famosas dores do frio.

Não existe tratamento específico para esse tipo de dor, porém podemos preveni-la realizando diariamente exercícios físicos e nos agasalhando com roupas que esquentem principalmente as extremidades do corpo. Os alongamentos são muito eficazes nessa fase, pois além de ativarem o sistema circulatório, promovem o relaxamento das fibras musculares, diminuindo a tensão muscular gerada pelos deliciosos dias de inverno.

Disponível em: <http://veja.abril.com.br/blog/viver-bem>  
Acessado em 21 de agosto de 2013.

**9.** Dadas as análises linguísticas dos elementos que estruturam o texto,

- I. A relação semântica estabelecida entre o primeiro e o segundo parágrafo é de causalidade.
- II. No primeiro período do 3º parágrafo, as relações semânticas que articulam as orações, a princípio, apresentam ideias de tempo, adição e finalidade.
- III. Em “[...] e facilitar o transporte de nutrientes e oxigênio **que** chega aos tecidos” (3º parágrafo), o pronome relativo “que” introduz uma oração subordinada adjetiva restritiva, cuja qualidade expressa por ela é uma informação adicional que apenas ratifica uma característica que é reconhecidamente do antecedente.
- IV. Na oração “[...] quando administramos alguma medicação para febre, por exemplo.” (2º parágrafo), a vírgula foi usada pela mesma razão que “Durante os dias frios, o metabolismo sofre alterações [...]” (3º parágrafo).
- V. Poderíamos substituir o elemento articulador “porém” em “Não existe tratamento específico para esse tipo de dor, **porém** podemos preveni-la [...]”, presente no 4º parágrafo, por “contudo”, sem alteração semântica.

verifica-se que estão corretas

- A) I, II, III, IV e V.
- B) I e III, apenas.
- C) II, III e IV, apenas.
- D) II, III e V, apenas.
- E) I, II e V, apenas.

A questão 10 refere-se ao texto abaixo.

### Jordânia lança plano ambicioso para resgatar o Mar Morto

Transportar água de um mar que não tem problemas para outro que está secando parece ser uma medida sensata. E dá a impressão de que os desafios não iriam muito além dos custos altos e dos investimentos em tecnologia.

No entanto, quando há vários países envolvidos, a questão torna-se muito mais difícil. Especialmente se essa operação ocorre no Oriente Médio.

Ainda assim, o primeiro-ministro da Jordânia, Abdullah Nsur, anunciou esta semana o lançamento da primeira fase de um plano para transportar a água do Mar Vermelho para o Mar Morto.

O custo do projeto é estimado em US\$ 1 bilhão e levará à Jordânia 100 milhões de metros cúbicos de água dessalinizada por ano.

Para um país como a Jordânia, onde 92% do território é deserto e a falta de água é um problema sério, essa pode ser a solução que muitos esperam há anos.

Além disso, o nível do Mar Morto encolhe mais de um metro por ano e, se continuar nesse ritmo, há quem diga que ele pode secar em 2050. [...]

Disponível em: <http://noticias.br.msn.com>  
Atualizado: 22/08/2013

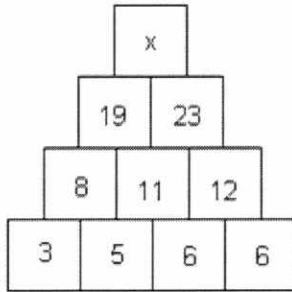
10. Avalie as correspondências abaixo, considerando a análise sintática dos termos do texto e assinale a opção cuja classificação está correta.

- A) “em tecnologia” (1º parágrafo) – objeto indireto.
- B) “vários países envolvidos” (2º parágrafo) – sujeito.
- C) “o primeiro-ministro” (3º parágrafo) – aposto.
- D) “dessalinizada” (4º parágrafo) – adjunto adnominal.
- E) “em 2050” (6º parágrafo) – adjunto adnominal.

## RACIOCÍNIO LÓGICO

Rascunhos

11. Se, na figura abaixo, os números foram dispostos seguindo um determinado critério,



o valor de  $x$  é

- A) 38.
- B) 39.
- C) 40.
- D) 41.
- E) 42.

12. A negação da proposição: "Todos os filósofos são lógicos" é:

- A) "Nenhum filósofo é lógico".
- B) "Existe pelos menos um filósofo que não é lógico".
- C) "Se alguém não é lógico, então não é um filósofo".
- D) "Todas as pessoas não lógicas não são filósofos".
- E) "Nem todos os filósofos são ilógicos".

13. Num clube há 56 sócios que praticam natação, 21 que praticam natação e basquete, 106 que praticam apenas um desses dois esportes e 66 que não jogam basquete.

O número de sócios desse clube que não praticam natação é

- A) 31.
- B) 71.
- C) 92.
- D) 158.
- E) 102.

14. Numa sala há 8 lâmpadas diferentes. Cada uma delas pode estar acesa ou apagada. De quantos modos diferentes esta sala pode ser iluminada?

- A) 40 320
- B) 255
- C) 256
- D) 5 040
- E) 1 024

15. No lançamento de três dados, observou-se que os resultados são todos distintos. Qual é a probabilidade de que um desses resultados seja igual a 1?

- A) 1/216
- B) 1/20
- C) 1/2
- D) 1/10
- E) 1/6

## HISTÓRIA E GEOGRAFIA DE POÇO DAS TRINCHEIRAS

16. Segundo a memória popular, o nome *Poço das Trincheiras* se deu devido à existência de um poço nas redondezas da povoação e porque, no local, foi erguida uma trincheira, durante a luta contra os

- A) franceses.
- B) portugueses.
- C) ingleses.
- D) espanhóis.
- E) holandeses.

17. Dadas as afirmativas abaixo sobre o município de Poço das Trincheiras,

- I. A cidade tem dinâmica urbana, gerando um desenvolvimento excelente.
- II. Poço das Trincheiras continua dependendo das relações comerciais e da prestação de serviços com sua antiga sede.
- III. Na cidade estão localizadas seis comunidades remanescentes de quilombos.
- IV. Poço das Trincheiras tem um dos piores Índice de Desenvolvimento Humano (IDH) do Brasil e o terceiro mais baixo de Alagoas.
- V. O calendário de eventos da cidade assinala uma tripla comemoração que atrai grande número de visitantes em busca da animação e da hospitalidade da população.

verifica-se que estão corretas apenas

- A) I, II e III.
- B) II, III e IV.
- C) III, IV e V.
- D) II e IV.
- E) IV e V.

18. Dados os itens abaixo sobre a história de Poço das Trincheiras,

- I. O primeiro prefeito eleito para o período de 1959 a 1961 foi Ronalson Monteiro Wanderley.
- II. Sob o ponto de vista religioso, a freguesia foi criada pelo então presidente da província das Alagoas, Pedro Leão Velloso Filho.
- III. Apenas Alto do Tamanduá, Jorge e Mocó são comunidades remanescentes de quilombos.
- IV. Fernando Medeiros foi nomeado administrador paroquial.
- V. Poço das Trincheiras foi o único município alagoano a ter sua renda diminuída entre os anos de 1991 a 2000.

verifica-se que estão corretos apenas

- A) I, III e IV.
- B) II, IV e V.
- C) III, IV e V.
- D) III e IV.
- E) II e V.

19. Poço das Trincheiras, município do médio sertão alagoano, ocupa uma área de aproximadamente 291,937 Km<sup>2</sup> e abriga uma população de aproximadamente 13.872 habitantes, segundo os dados mais recentes do IBGE. O quadro natural desse município alagoano é marcado por

- A) domínio do clima semiárido, xerófilas, relevo com presença de inselbergs, solos pedregosos e rios temporários.
- B) baixa amplitude térmica, clima quente e seco com chuvas irregulares, rios perenes, vegetação de caatinga, solos profundos e ricos em minerais.
- C) domínio do clima tropical úmido, vegetação de caatinga alternada com cerrados, rios intermitentes e relevo marcado pela depressão sertaneja.
- D) amplitude térmica diária elevada, clima semiárido, bioma de mata dos cocais, solos pedregosos e ricos em sais minerais, maioria dos rios são perenes e com bom volume de água, como o São Francisco.
- E) domínio do clima semiárido, bioma da caatinga, elevada pluviosidade, solo arenoso e rios perenes.

20. Um viajante, partindo de Maceió pela BR 316 em direção a Poço das Trincheiras, deve percorrer por estradas a distância de 215 Km. Seguindo esta rota (de Maceió para Poço das Trincheiras), esse viajante deve apreciar paisagens naturais das mesorregiões alagoanas:

- A) Sertão e Leste alagoano, apenas.
- B) Leste alagoano, Agreste e Sertão.
- C) Sertão, Agreste e Oeste alagoano.
- D) Agreste, Sertão e Leste alagoano.
- E) Sertão, Leste alagoano e Agreste.

21. O clima e a vegetação de Poço das Trincheiras são, respectivamente,

- A) Semiúmido e Cerrado.
- B) Tropical e Mata Atlântica.
- C) Desértico e Estepes.
- D) Semiárido e Caatinga.
- E) Tropical e Caatinga.

22. O território do Médio Sertão alagoano abrange uma área de 2.542,4 Km<sup>2</sup>, aproximadamente 10% da área total do Estado. Essa mesorregião é composta por nove municípios, entre eles, Poço das Trincheiras, que tem como limite os municípios de

- A) Maravilha, Senador Rui Palmeira e Santana do Ipanema.
- B) Dois Riachos, Pão de Açúcar e Maravilha.
- C) São José da Tapera, Piranhas e Palestina.
- D) Olho D'água do Casado, Olivença e Ouro Branco.
- E) Santana do Ipanema, Senador Rui Palmeira e Carneiros.

23. Qual é o rio que atravessa o município de Poço das Trincheiras?

- A) São Francisco.
- B) Mundaú.
- C) Ipanema.
- D) Coruripe.
- E) Paraíba.

24. O líder da luta pela emancipação política de Poço das Trincheiras indicado para administrar provisoriamente o município foi

- A) Pedro Leão Velloso Filho.
- B) Ronalson Monteiro Wanderley.
- C) Osman Medeiros.
- D) José Carlos de Melo.
- E) Gilson Farias Barbosa.

25. No período de 2000–2010 ocorreu um declínio de 4,6% na população rural do Médio Sertão, mesorregião onde está localizado o município de Poço das Trincheiras; em 2000, o percentual de pessoas residindo na zona rural era de 59,6%; já em 2010, esta população representava 55%. Qual alternativa explica o fato de a maioria da população de Poço das Trincheiras residir na zona rural?

- A) A mecanização rural do município gera empregos no setor primário, mantendo a população em seu habitat.
- B) Há uma significativa demanda de mão de obra na área urbana, porém o déficit habitacional urbano é o fator inibidor do êxodo rural.
- C) A base econômica do município é a agropecuária familiar levando a maioria da população a permanecer no espaço rural, diante da escassez de emprego na área urbana.
- D) As ofertas de empregos nos setores secundário e terciário foram ampliadas em todos os municípios do Médio Sertão alagoano, inclusive em Poço das Trincheiras.
- E) Os investimentos do governo estadual e municipal na zona rural em infraestrutura como: saneamento básico, habitação, saúde pública e educação, fatores que viabilizam a permanência dos cidadãos pocenses no meio rural.

## CONHECIMENTOS ESPECÍFICOS

26. Pré-escolar de dois anos, com diarreia aguda, evacuações sanguinolentas e febre, chega ao hospital com quadro de choque. Após receber infusão adequada de volume na primeira hora do atendimento, apresenta-se com taquicardia, extremidades pletóricas, enchimento capilar de 1s, pulsos amplos e hipotensão arterial refratária à infusão de dopamina na dose de 5µg/kg/min. Neste momento, qual a droga mais adequada para utilizar neste paciente?

- A) Noradrenalina em dose maior que 0,2µg/kg/min.
- B) Dobutamina na dose de 20µg/kg/min.
- C) Adrenalina na dose de 0,4µg/kg/min.
- D) Dopamina na dose de 10µg/kg/min.
- E) Milrinona na dose de 0,5µg/kg/min.

27. Assinale a opção incorreta sobre a parada cardiorrespiratória e ressuscitação cardiopulmonar em lactentes e crianças até oito anos.

- A) A ênfase durante o suporte básico de vida é dada às compressões torácicas.
- B) O desfibrilador automático externo pode ser utilizado nessa faixa etária.
- C) A relação compressões torácicas/ventilações, quando há apenas um socorrista, é de 30:2.
- D) A causa mais frequente de parada cardiorrespiratória nessa faixa etária são as causas cardíacas primárias.
- E) O ritmo mais frequente de parada cardiorrespiratória nesta faixa etária é a assistolia.

28. Dadas as proposições seguintes, com relação à fase crítica da dengue,

- I. O período de extravasamento é autolimitado, durando geralmente 24-48 horas.
- II. A saída do plasma para o interstício é lenta e contínua, com períodos intermitentes de maiores perdas.
- III. Durante esta fase, observam-se os sinais clássicos da dengue: febre, cefaleia e mialgia intensa.
- IV. O extravasamento plasmático inicia na fase febril, intensificando-se na defervescência da febre, coincidindo com intensa resposta inflamatória sistêmica.

verifica-se que está(ão) correta(s)

- A) I, II, III e IV.
- B) I, apenas.
- C) II, III e IV, apenas.
- D) II e III, apenas.
- E) I, II e IV, apenas.

29. São bactérias comumente isoladas em casos de Otite Média Aguda:

- A) *S. pyogenes*, *H. influenzae* tipo B, *Moraxella catharralis*.
- B) *S. pneumoniae*, *S. aureus*, *Moraxella catharralis*.
- C) *S. pneumoniae*, *H. influenzae* não tipável, *Moraxella catharralis*.
- D) *S. pneumoniae*, *H. influenzae* não tipável, *S. aureus*.
- E) *S. pneumoniae*, *H. influenzae* tipável, *Moraxella catharralis*.

30. Menor, três anos e 4 meses, é levado à emergência com quadro de febre e tosse há três dias. Exame físico: T.ax.: 39,5°C, regular estado geral, FR: 62irpm e tiragem subcostal. Radiografia de tórax: condensação em lobo médio esquerdo. O diagnóstico e a conduta mais adequados são, respectivamente,

- A) pneumonia viral / tratamento ambulatorial com sintomáticos.
- B) pneumonia por germe atípico / tratamento ambulatorial com azitromicina oral.
- C) pneumonia bacteriana / solicitar hemograma, hemocultura, internar e iniciar penicilina G cristalina endovenosa.
- D) pneumonia bacteriana / solicitar hemograma e internar prescrevendo penicilina G cristalina caso o hemograma apresente leucocitose ou desvio para a esquerda.
- E) pneumonia viral ou bacteriana / solicitar hemograma, VHS e proteína-C reativa, para definir sobre o uso de antibioticoterapia.

31. Dados os itens seguintes sobre tratamento da anemia ferropriva em crianças,

- I. O tratamento com ferro deve ser preferencialmente por via oral e em monoterapia.
- II. A ferritina não é bom parâmetro de resposta ao tratamento com o ferro oral.
- III. A baixa adesão ao tratamento é a principal responsável pela falha terapêutica.
- IV. São efeitos adversos mais encontrados com a terapia com ferro a cor escura das fezes, os distúrbios gastrintestinais e manchas dentárias.
- V. O tratamento com ferro oral deve ser mantido até normalização dos níveis séricos de ferritina ou, no mínimo, até 2-3 meses após melhora da anemia.

quais estão corretos?

- A) I e III, apenas.
- B) I, III, IV e V.
- C) I, II e V, apenas.
- D) III, IV e V, apenas.
- E) II, III e IV, apenas.

32. Em relação às infecções respiratórias virais na infância, marque a opção incorreta.

- A) A vacina contra o vírus influenza com vírus inativados pode causar síndrome gripal em pessoas suscetíveis, especialmente nos portadores de fatores de risco.
- B) O tratamento com oseltamivir está indicado para todos os pacientes a partir de um ano de idade com diagnóstico clínico ou laboratorial de influenza e deve ser iniciado nas primeiras 48 horas do início dos sintomas.
- C) O tratamento com antivirais deve apenas ser empregado em ambiente hospitalar.
- D) Os testes imunoenzimáticos e de imunofluorescência são utilizados para o diagnóstico de influenza na prática clínica.
- E) A influenza aviária é definida pela infecção de aves pelos vírus influenza, sendo epidêmica e com subtipos diferentes dos encontrados em seres humanos.

33. É correto afirmar em relação à sibilância em lactentes:

- A) os vírus são os agentes que mais causam sibilância em lactentes.
- B) a sibilância recorrente é mais prevalente no gênero feminino.
- C) a poluição do ar causada pelo tráfego não aumenta o risco de atopia e asma.
- D) a broncodisplasia é uma causa frequente de sibilância em lactentes.
- E) os corticoides inalatórios e os inibidores de receptores de leucotrienos não são seguros e indicados nas sibilâncias recidivantes de lactentes.

34. Com relação às pneumonias adquiridas na comunidade, assinale a opção incorreta.

- A) A maioria das infecções respiratórias agudas tem etiologia viral.
- B) Os fatores de risco mais importantes para pneumonia complicada e letalidade são desnutrição, a baixa idade e as co-morbidades.
- C) A *Chlamydia trachomatis* acomete principalmente lactentes de três semanas a seis meses de vida, filhos de mães infectadas.
- D) A radiografia de tórax deve ser realizada quando se suspeita de pneumonia extensa, grave ou complicada, quando não ocorre melhora ou ocorre piora apesar de tratamento adequado.
- E) Os agentes etiológicos virais mais comumente isolados em crianças com pneumonia, nos países em desenvolvimento, são os vírus sincicial respiratório e influenza.

35. Lactente, 45 dias de vida, é levado ao posto de saúde com relato de recusa ao seio materno, tosse e desconforto respiratório há 2 dias. A mãe refere picos febris no período (39°C). O lactente nasceu de parto cesariana e está em aleitamento materno exclusivo. Ao exame físico: Peso: 3156g; Temperatura axilar: 37°C; Regular estado geral, corado, hidratado, acianótico, ativo; ACV: RCR, 2T, BNF, sem sopros, FC: 148bpm; AR: MV+, roncosp e crepitações esparsos, FR: 75ipm, com tiragem subcostal leve. Assinale a opção que descreve o manejo mais adequado para esta criança.

- A) Ambulatorial com Amoxicilina via oral.
- B) Internação, iniciando Ceftriaxona e Oxacilina endovenosas.
- C) Ambulatorial, com prescrição de beta2 agonista inalado.
- D) Internação com Penicilina G cristalina e aminoglicosídeo endovenosos.
- E) Ambulatorial com eritromicina via oral.

36. Menor, 4 meses, trazido ao setor de emergência pela mãe que refere que o padrasto o sacudiu violentamente. Qual a opção que contém o indício clínico que mais provavelmente caracteriza esta forma de violência?

- A) Hemorragias retinianas
- B) Fratura de escápula
- C) Luxação de coluna de cervical
- D) Equimoses mastoideas
- E) Equimoses em tronco e membros



- 37.** Lactente, 8 meses, chega ao setor de emergência com crise convulsiva tônico-clônica generalizada, febril ao toque (Tax: 37,8°C). Relato de febre há 24h, sem outros sintomas. Exame físico normal após a crise. Nega episódio anterior de crise epiléptica. Qual a conduta imediata na crise e sequencial mais adequada no manejo desta criança?
- A) Aguardar o término espontâneo da crise, fazer punção lombar para coleta do líquido e deixar em observação 12h na emergência. Orientar os pais acerca da benignidade do quadro.
  - B) Fazer midazolam ou diazepam intravenoso e administrar antitérmico. Fazer punção lombar para coleta do líquido e deixar em observação 12h na emergência.
  - C) Fazer midazolam ou diazepam intravenoso e administrar antitérmico. Fazer punção lombar para coleta do líquido e iniciar antibiótico intravenoso.
  - D) Fazer midazolam ou diazepam intravenoso e administrar antitérmico. Deixar em observação 12h na emergência.
  - E) Administrar antitérmico e aguardar término espontâneo da crise, dada a benignidade do quadro.
- 38.** Menor, 4 anos, com história de febre há 2 dias, acompanhada de cefaleia, vômitos e episódio de crise convulsiva tônico-clônica generalizada hoje. Na suspeita de meningoencefalite bacteriana, qual é a opção recomendada de tratamento antibiótico endovenoso?
- A) Ceftriaxona associada ao meropenem
  - B) Vancomicina associada ao cloranfenicol
  - C) Ceftriaxona
  - D) Penicilina G cristalina associada ao cloranfenicol
  - E) Ampicilina
- 39.** Recém-nascido, 15 dias de vida, com mãe com tuberculose pulmonar (bacilífera). Qual a conduta imediata mais adequada em relação à criança?
- A) Fazer PPD (Mantoux).
  - B) Prescrever esquema tríplice.
  - C) Vacinar com BCG intradérmico.
  - D) Iniciar quimioprofilaxia com isoniazida.
  - E) Vacinar com BCG intradérmico e fazer PPD após 1 mês de vida.
- 40.** Em relação à anemia falciforme, assinale a opção incorreta.
- A) Origina-se de uma mutação pontual, com troca de um único aminoácido no gene da betaglobina.
  - B) Trata-se de doença autossômica recessiva.
  - C) É a hemoglobinopatia mais frequente no mundo.
  - D) Tem distribuição similar nos estados do Brasil.
  - E) Suas principais complicações na infância, além das crises algícas, são: dactilite, sequestro esplênico, crise aplástica, acidente vascular cerebral, síndrome torácica aguda e o aumento no risco de sepse por germes encapsulados.

## ATENÇÃO!

O candidato está proibido de destacar esta folha com os gabaritos, sob pena de eliminação do processo. Somente o Fiscal de Sala está autorizado a fazer isso no momento de sua saída em definitivo do Local de Prova.

## GABARITOS DO CANDIDATO

1	2	3	4	5	6	7	8	9	10	11	12	13	14	15	16	17	18	19	20	21	22	23	24	25	
26	27	28	29	30	31	32	33	34	35	36	37	38	39	40	41	42	43	44	45	46	47	48	49	50	

**EDITAL Nº 01/2013, de 16 de julho de 2013.**


**MUNICÍPIO DE POÇO DAS TRINCHEIRAS**

6.1 O NEPS/COPEVE/UFAL divulgará o gabarito preliminar, juntamente com as provas objetivas, no endereço eletrônico: [www.copeve.ufal.br](http://www.copeve.ufal.br), a partir das 21 horas do dia **10/10/2013**.

## GABARITOS OFICIAIS

[www.copeve.ufal.br](http://www.copeve.ufal.br)

## REALIZAÇÃO



**FUNDEPES**

[www.fundepes.br](http://www.fundepes.br)




**UFAL**

[www.ufal.edu.br](http://www.ufal.edu.br)



*Você confia no resultado!*

[www.copeve.ufal.br](http://www.copeve.ufal.br)



Município de  
Poço das Trincheiras – AL